
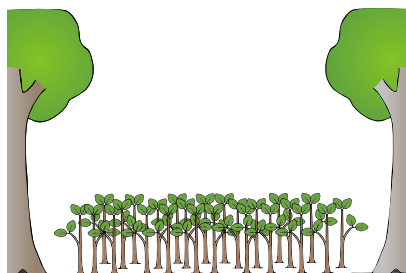





1. Jak roste les



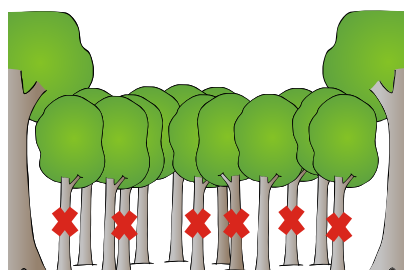
věk: _____




věk: _____



věk: _____



věk: _____



věk: _____



věk: _____


K obrázkům dopiš správný pojem:

VÝSADBA, PROŘEZÁVKA, PROBÍRKA, DOSPĚLÝ POROST, TĚŽBA, LESNÍ ŠKOLKA, DOSPĚLÝ LES

a také věk stromů: 1, 90, 10, 30, 120, 2 let

2. Výsadba

Jak se nazývá místo na sazenici, které odděluje nadzemní a podzemní část? Na obrázku ho vyznač šipkou.



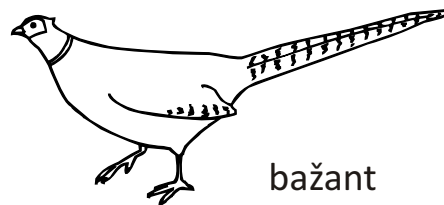



3. Pobytové znaky

INDICIE

1.
2.
3.
4.
5.
6.
7.

4. Stopy

spoj stopu se zvířetem



5.

INDICIE

1.
2.
3.
4.
5.
6.

TAJENKA: _ _ _ _ _